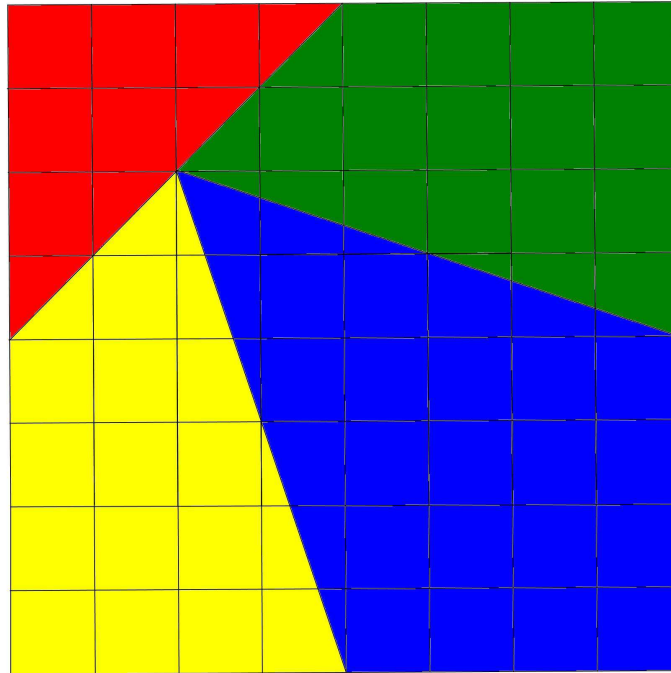


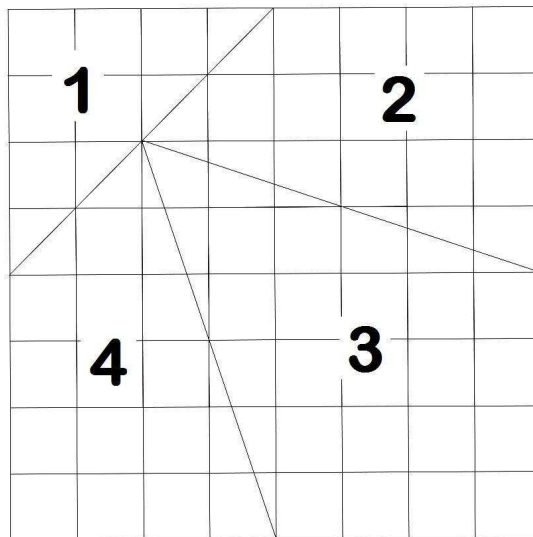
EL PUZZLE DE LOS TRIÁNGULOS



Actividad:

PRIMERA PARTE

Se ha dividido esta cuadrícula 8x8 de lado 1 en 4 piezas para formar un puzzle.



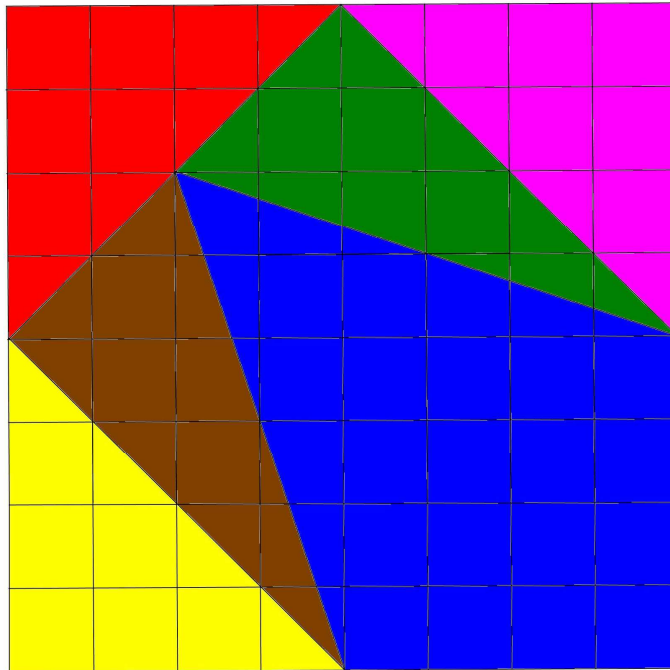
Reproduce el puzzle, ayudándote de la cuadrícula.
Recorta las cuatro piezas.
Con las piezas, forma un triángulo

¿Es un triángulo equilátero?

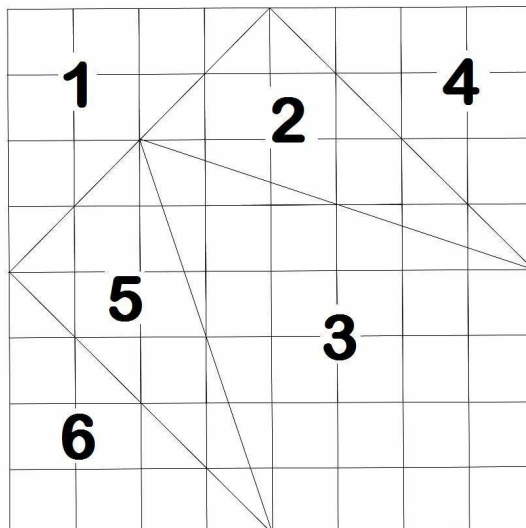
Para averiguarlo, deberás calcular los tres lados de tu triángulo

SEGUNDA PARTE

Reproduce otra vez el puzzle pero ahora marca y recorta estas seis piezas:



Para ayudarte te señalamos mejor la cuadrícula:



Con estas 6 piezas puedes formar ahora otro triángulo. ¿De qué tipo es?
- Halla su perímetro.